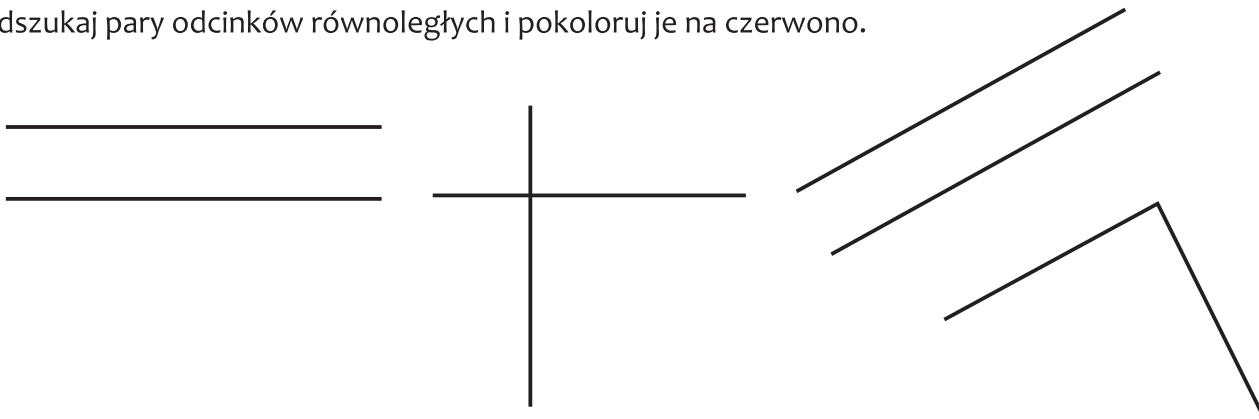




Odcinki równoległe

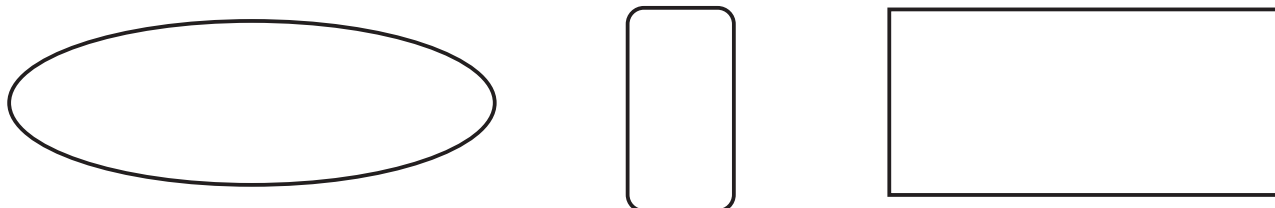
Zadanie 1

Odszukaj pary odcinków równoległych i pokoloruj je na czerwono.



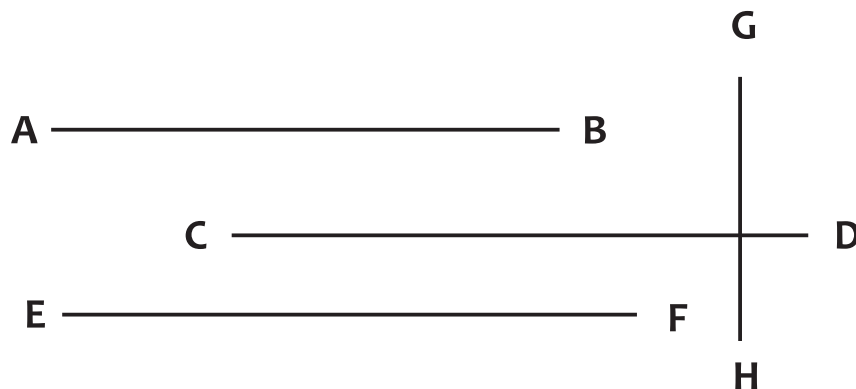
Zadanie 2

Zaznacz na niebiesko pary odcinków równoległych.



Zadanie 3

Przyjrzyj się uważnie rysunkom. Przeczytaj zamieszczone poniżej zdania i zapisz odpowiedź TAK lub NIE.



Odcinek AB jest równoległy do odcinka CD

Odcinek CD jest równoległy do odcinka EF

Odcinek AB jest równoległy do odcinka EF

Odcinek GH jest równoległy do odcinków AB, CD, EF